

1. 考生要写清楚学校、班级和姓名。  
2. 字迹要写清楚，卷面要整洁。

注意  
事项

姓名

班级

学校



题

答

勿

请

内

线

封

密

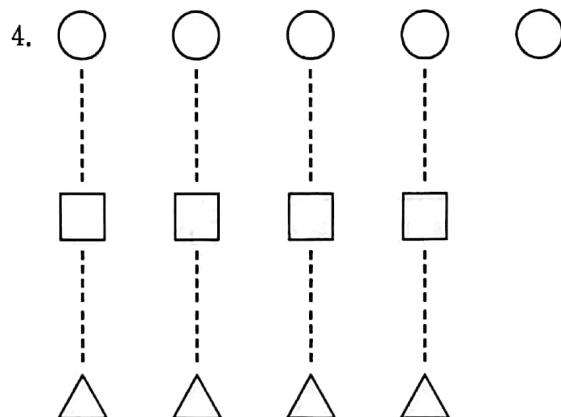


一、填一填。(1~6 题每空 1 分，7 题每空 2 分，共 24 分)

1. 2 和 4 中间的一个数是 ( )。

2. 一个数的左边是 6，右边是 8，这个数是 ( )。

3. 3 和 6 组成 ( )。



○ 比 □ ( ) 1 个，△ 比 ○ 少 ( ) 个，

( ) 和 ( ) 同样多，( ) 最多。



从左数，第 ( ) 串有 10 个樱桃，第 ( ) 串樱桃个数是 9。从右数，第 ( ) 串樱桃个数是 7，第 ( ) 串有 8 个樱桃，一共有 ( ) 串樱桃。

6. 把 3、7、5、6、4 按从大到小的顺序排列。

( ) ( ) ( ) ( ) ( )

7. 写出 10 以内比 5 大的数：\_\_\_\_\_

写出 10 以内比 8 小的数：\_\_\_\_\_

写出比 4 大、比 10 小的数：\_\_\_\_\_



扫描全能王 创建

二、选一选。(将正确答案的序号填在括号里)(每题3分,共12分)

1.  $4 > 3$ , 读作 ( )。

①3 小于 4

②4 小于 3

③4 大于 3

2.  $\square\square\square\square$  和  $\bigcirc\bigcirc\bigcirc\bigcirc$ , 可以说 ( )。

① $\square$  比  $\bigcirc$  多

② $\square$  和  $\bigcirc$  同样多

③ $\bigcirc$  比  $\square$  多

3.  是用 ( ) 块小正方体搭成的。

①4

②3

③5

4. 比 6 大 2 的数是 ( )。

①4

②8

③7

三、算一算。(每题1分,共18分)

$1+3=$

$8-7=$

$4-2=$

$5+3=$

$9-2=$

$2+3=$

$7-4=$

$0+4=$

$3+3=$

$10-5=$

$5-1=$

$7-7=$

$8+1=$

$6-4=$

$9-6=$

$4+6=$

$10-8=$

$9-5=$

四、在  $\bigcirc$  里填上 “+” 或 “-”。(每题2分,共16分)

$6 \bigcirc 2 = 8$

$9 \bigcirc 3 = 6$

$10 \bigcirc 4 = 6$

$5 \bigcirc 4 = 9$

$5 \bigcirc 5 = 0$

$7 \bigcirc 3 = 10$

$0 \bigcirc 8 = 8$

$6 \bigcirc 4 = 2$





五、看图列式计算。(每题 3 分, 共 12 分)



$$\square + \square = \square$$

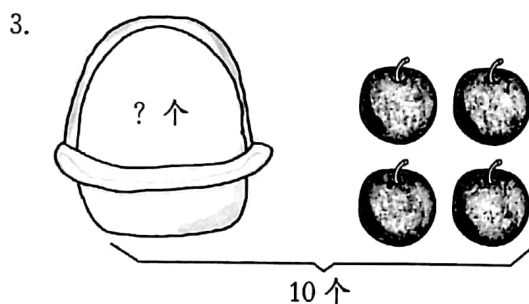
$$\square - \square = \square$$

$$\square + \square = \square$$

$$\square - \square = \square$$



$$\square \bigcirc \square = \square$$



$$\square \bigcirc \square = \square$$

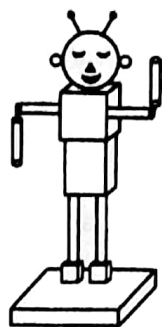


$$7 - \square = \square$$

$$7 - \square = \square$$



六、数一数，填一填。(每空2分，共8分)



有 ( ) 个;



有 ( ) 个;




有 ( ) 个;



有 ( ) 个。

七、看图解决问题。(每题5分，共10分)

1.



树上还剩几个苹果?



$$\square \bigcirc \square = \square \text{ (个)}$$

2.



一共有几个小朋友?



$$\square \bigcirc \square = \square$$

附加题 (共10分)

妈妈买了一些苹果，妈妈吃了2个，小红吃了2个，还剩5个。妈妈一共买了 ( ) 个苹果。

